

Контрольно-измерительные материалы

по географии для 6 класса

МАОУ «Новозаимская СОШ»

на 2023-2024 учебный год

Пояснительная записка

к контрольной работе по географии тема: «Гидросфера» 6 класс

Контрольная работа в трех вариантах составлена в виде тестовых и практических заданий, соответствующих темам, изучаемым в 1 полугодии 6 класса: гидросфера

На выполнение теста рекомендуется выделить 40 минут.

Критерии оценивания работы

Задания на выбор одного ответа	По 1 баллу	Максимум 10 баллов
Множественный выбор	По 1 баллу	Максимум 2 балла
Задания на установление соответствия	По 1 баллу	Максимум 14 баллов
Работа с картой	По 1 баллу	Максимум 7 баллов
ИТОГО:		33 балла

От 0 – 15 баллов – оценка «2». менее 50%

От 16 – 22 баллов – оценка «3». 50-69%

От 23 – 29 баллов – оценка «4». 70-89%

От 30– 33 баллов – оценка «5». 90-100%

Контрольная работа по теме «Гидросфера» 6 класс

Вариант

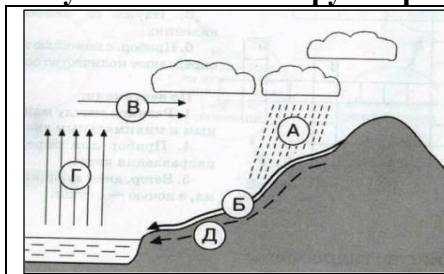
1. Какая вода испаряется с поверхности океана? 1б

- А) Соленая б) Пресная в) Горькая г) Не испаряется

2. Назовите общее количество океанов на Земле. 1б

- а) 7 б) 3 в) 5 г) 4

3. Какими буквами на схеме круговорота воды отмечены? 5б

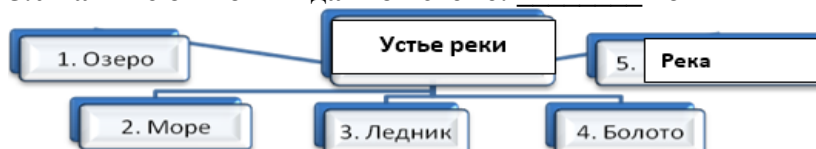


- | |
|-------------------|
| 1. Испарение |
| 2. Перенос влаги |
| 3. Осадки |
| 4. Реки |
| 5. Подземные воды |

4. Назовите количество состояний, в которых вода находится в природе 1б

- а) 2 б) 4 в) 1 г) 3

5. Укажите ошибки в данной схеме: _____ 1б



6. Самым широким проливом Мирового океана является: 1б

- а) Босфор, б) Дрейка, в) Берингов, г) Гибралтарский

7. «Найдите соответствие» 9б

1. Межпластовые воды	А) озера, в которых реки впадают, но из которых не вытекают
2. Источник	Б) Скопление пресного льда на суше
3. Речная система	В) Воды, находящиеся между двумя водоупорными слоями
4. Материки	Г) Узкое водное пространство, ограниченное с двух сторон берегами материков или островов
5. Бесточные озера	Д) Река со всеми своими притоками
6. Цунами	Е) огромные участки суши, окруженные водами Мирового океана
7. Подземные воды	Ж) выход подземных вод на земную поверхность
8. пролив	З) волны возникающие при «моретрясении» и извержении подводных вулканов
9. Ледник	И) вода, находящаяся в земной коре

8 При какой температуре замерзает морская вода? 1б

- а) +1 б) -1 в) 0 г) -2

9 Как называется расстояние от истока до устья реки? 1б

- а) Падение реки б) Межень в) Длина реки г) Половодье

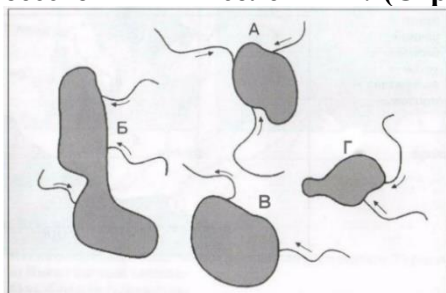
10 Где имеются покровные ледники? 1б

- а) Калимантан б) Мадагаскар в) Антарктида г) Бали

11. Как правильно называются горные породы, не пропускающие воду? 1б

- а) водонапорные; б) водоупорные; в) водоотталкивающие; г) водозадерживающие

12. На рисунке изображено четыре озера и реки, впадающие в них. Какие озера являются бессточными и солёными? (Стрелки указывают направление течения): ____ 1б



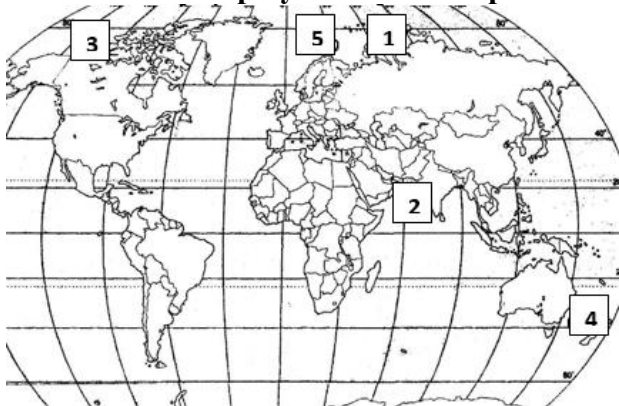
13. Какая часть приходится на долю пресных вод в общем объеме гидросферы? 1б

- а) 3% б) 12% в) 24% г) 48%

14. Назовите самое большое по площади озеро на Земле. 1б

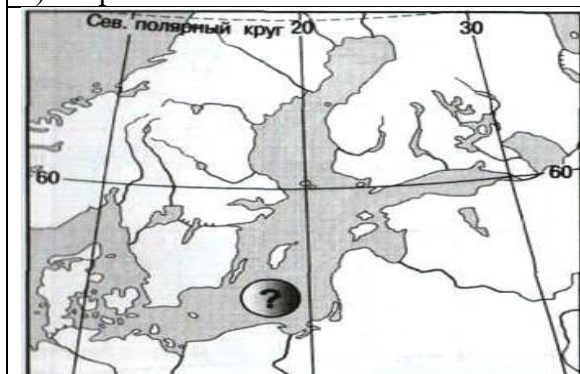
- а) Каспийское б) Ладожское в) Балхаш г) Онежское

15. Какие моря указаны на карте? 5б



16. Назовите показанные на фрагментах карты географические объекты. 2б

а) Море



б) Пролив

